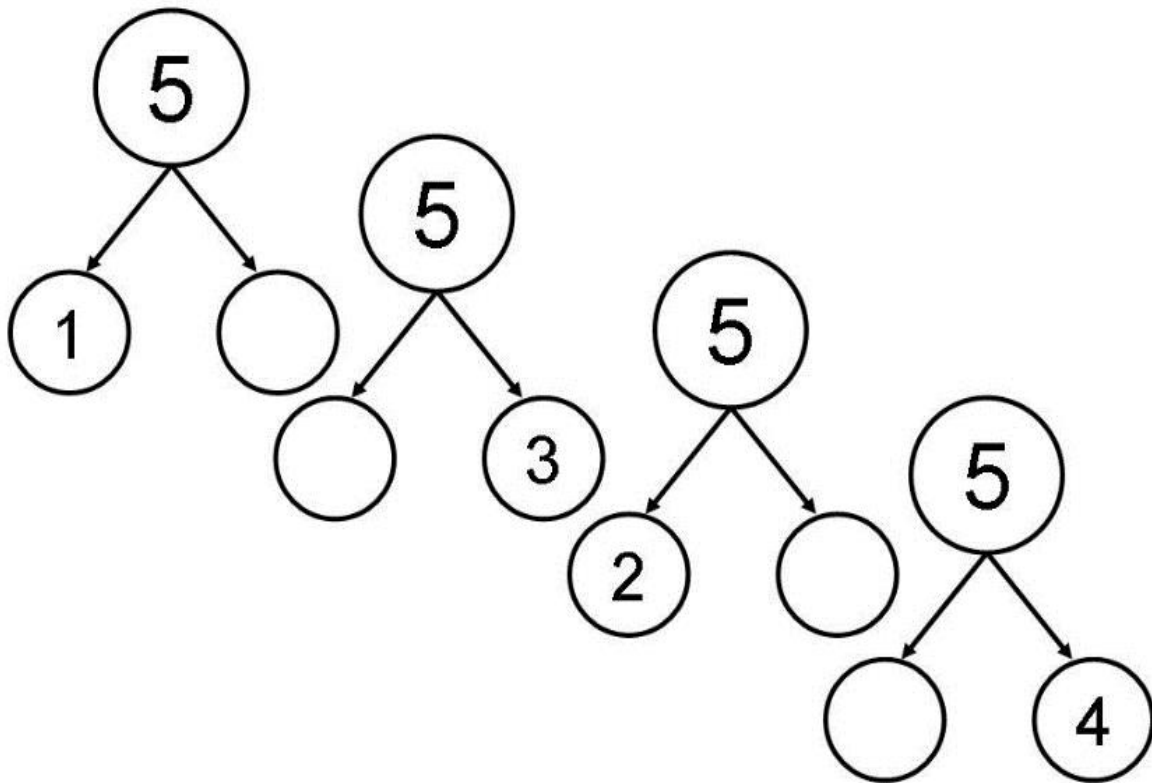


Впиши недостающие числа.








Тема: Сложение и вычитание чисел в пределах 5.



Задание: выполни задания на сложение и вычитание.



Учимся считать до 10
<http://www.tvoyrebenok.ru/>

УРОК 2: "ВЫЧИТАНИЕ"



 -  = 
 $2-1 = 1$



 -  =
 $3-1 = \square$



 -  =
 $3-2 = \square$



 -  =
 $2-2 = \square$

САМОСТОЯТЕЛЬНАЯ РАБОТА
<http://www.tvoyrebenok.ru/>

 -  =
 $4-1 = \square$




 -  =
 $4-3 = \square$



 -  =
 $4-1 = \square$



 -  =
 $5-1 = \square$



Учимся считать до 10
<http://www.tvoyrebenok.ru/>

УРОК 1: "СЛОЖЕНИЕ"



 +  = 
 $1+1 = 2$



 +  =
 $2+1 = \square$



 +  =
 $1+3 = \square$



 +  =
 $2+2 = \square$

САМОСТОЯТЕЛЬНАЯ РАБОТА
<http://www.tvoyrebenok.ru/>

 +  =
 $1+2 = \square$

 +  =
 $3+1 = \square$

 +  =
 $2+3 = \square$


 +  =
 $4+1 = \square$

12.02.

Тема: Прописная буква П.

Задание: прописать букву П и слоги.

П п П п



П П

Пп Пп

па

по

пу

пал

пар

Тема: Строчная буква Т. Слоги и слова с буквой Т.

Прописная буква Т.

Задание: прописать букву Т. Слоги.

Т т

Тт тт



Handwriting practice grid with slanted lines. The grid contains the following text:

т т

т т

а а

т т

л л

т т

Тт Тт

Ттм Ттм

та

ту

то

ты

ИЗО

15.02.

Тема: Рисование с натуры воздушных шаров.

Задание: Разукрасить воздушные шары разными цветами.

